

MATHS – PROBLEMES 3

PROBLEME 1

Pour construire une maquette Julie a acheté 315 allumettes. Elle s'aperçoit qu'il lui manque 98 allumettes.

Combien d'allumettes la maquette de Julie nécessite-t-elle?

Je cherche :

Je calcule :

Ma phrase réponse :

PROBLEME 2

Le fleuriste a vendu 12 bouquets de fleurs contenant chacun 6 fleurs.

Combien de fleurs le fleuriste a-t-il vendu ?

Je cherche :

Je calcule :

Ma phrase réponse :

PROBLEME 3

M. Leblanc fait ses courses pour un montant total de 394€. Il paye avec un billet de 500€.

Combien va-t-on lui rendre?

Je cherche :

Je calcule :

Ma phrase réponse :

PROBLEME 4

Monsieur Barthélemy note ce qu'il a acheté afin de remettre sa voiture en état. Pneus : 100 € ; essuie-glaces : 11€; huile : 8 €.

Combien va-t-il dépenser pour la remise en état de sa voiture?




Je cherche :

Je calcule :

Ma phrase réponse :



COMMENT RÉSOUDRE UN PROBLÈME ?

<p>1</p> <p>Je lis d'abord la question (en gras). Je lis le texte du problème. Le texte, c'est comme une histoire.</p>	
<p>2</p> <p>Je me raconte l'histoire, je me fais un film dans ma tête et j'essaie de comprendre ce qui se passe.</p>	
<p>3</p> <p>Quand j'ai bien compris ce qui se passe, je peux faire un dessin, écrire... pour trouver la réponse à la question.</p>	
<p>4</p> <p>Je peux alors écrire l'opération qui correspond à mon dessin puis répondre à la question en faisant une phrase. Je vérifie que mon résultat est possible.</p>	